







Observa el **pictograma** con las **ventas de coches** y responde a las **preguntas**:

Años	Número de Coches	 = 100 coches
2.009		
2.010		
2.011		
2.012		
2.013		

1) ¿Cuántos coches se vendieron en 2.009?

.....

2) ¿Cuántos coches se vendieron en 2.012?

.....

3) ¿Se vendieron más coches en 2.011 que en 2.010?

.....

4) ¿Cuántos coches se vendieron desde 2.011 hasta 2.013?

.....

Representa los **datos** en el **gráfico de pictogramas**:

En el zoo hay **cinco jirafas**, **siete panteras**, **tres leones** y **nueve cocodrilos**

