






















Observa el **pictograma** con los **kg de tomates vendidos** y **responde**:

Tomates	 = 10	 = 1	 = 0,5		
Lunes					
Martes					
Miércoles					
Jueves					
Viernes					

1) ¿Cuántos kg de tomates se vendieron el lunes?

.....

2) ¿Cuántos kg se vendieron el viernes?

.....

3) ¿Se vendieron más kg el miércoles que el jueves?

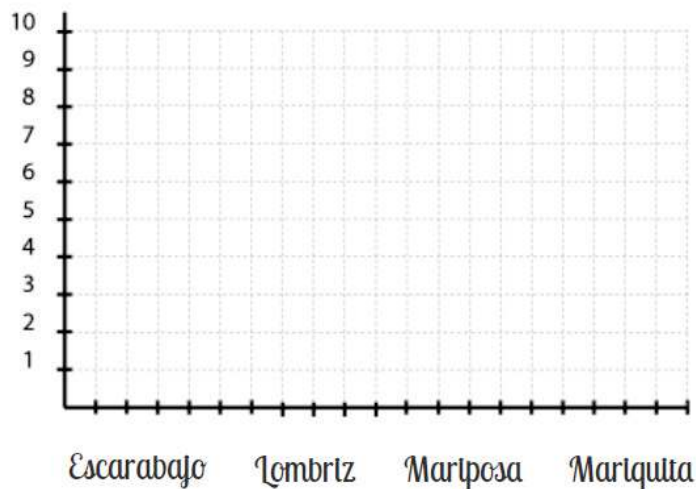
.....

4) ¿Se vendieron menos kg el viernes que el martes?

.....

Representa los **datos** en el **gráfico de pictogramas**:

En el jardín hay **tres mariquitas**, **un escarabajo**, **diez lombrices** y **siete mariposas**



.....
.....