



Observa el **pictograma** con las **ventas de coches** y responde:

Años	Número de Coches	 = 10 coches
2.009		
2.010		
2.011		
2.012		
2.013		

1) ¿Cuántos coches se vendieron en 2.012?

.....

2) ¿Cuántos coches se vendieron en 2.009?

.....

3) ¿Se vendieron más coches en 2.013 que en 2.009?

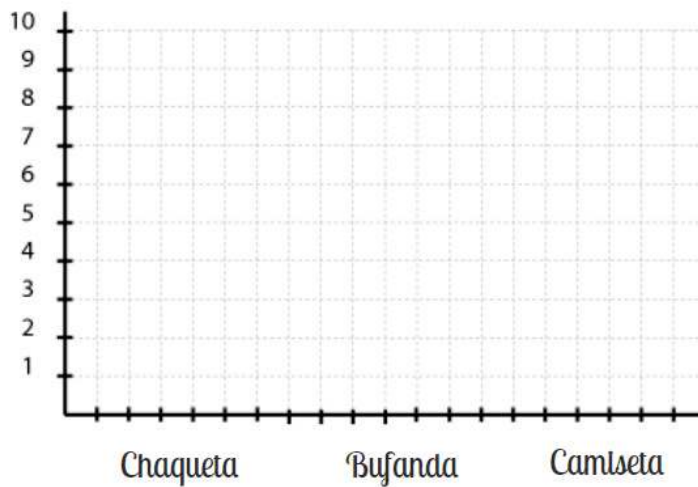
.....

4) ¿Cuántos coches se vendieron desde 2.010 hasta 2.012?

.....

Representa los **datos** en el **gráfico de pictogramas**:

En el armario he encontrado **cuatro chaquetas**, **diez camisetas** y **ocho bufandas**



.....
.....