






















Observa el **pictograma** con los **kg de tomates vendidos** y responde:

Tomates	 = 10	 = 1	 = 0,5		
Lunes					
Martes					
Miércoles					
Jueves					
Viernes					

1) ¿Cuántos kg de tomates se vendieron el martes?

.....

2) ¿Cuántos kg se vendieron el viernes?

.....

3) ¿Se vendieron más kg el miércoles que el jueves?

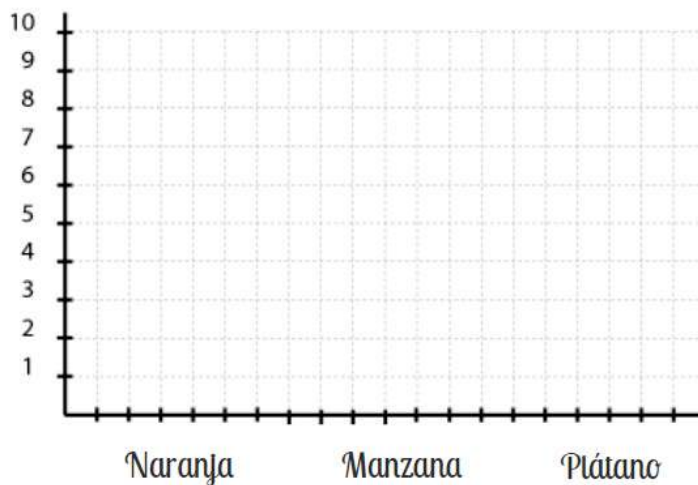
.....

4) ¿Se vendieron menos kg el viernes que el lunes?

.....

Representa los **datos** en el **gráfico de pictogramas**:

En la cesta hay **nueve manzanas**, **tres plátanos** y **siete naranjas**



.....  
.....