







Observa el pictograma con los coches vendidos y calcula:

| Años | Número de Coches |  = 1.000 coches |
|-------|---|--|
| 2.009 |  | |
| 2.010 |  | |
| 2.011 |  | |
| 2.012 |  | |
| 2.013 |  | |

1) ¿Cuántos coches se han vendido en 2.011?

.....

2) ¿Y cuántos coches se han vendido en 2.009?

.....

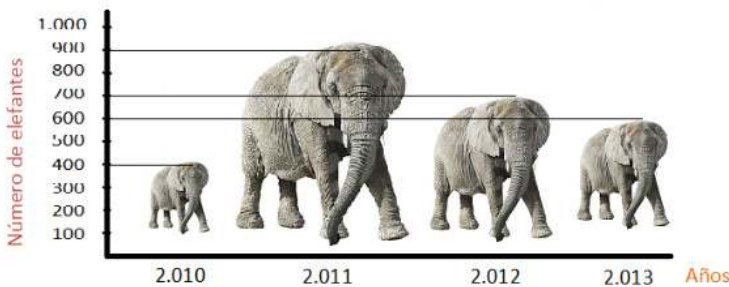
3) ¿Cuántos menos coches se vendieron en 2.010 que en 2.012?

Calcula:

.....
.....

Vicente Molinero Claramunt

Observa el pictograma con los elefantes de un safari y calcula:



1) ¿Cuántos elefantes había en 2.010?

.....

2) ¿Y cuántos elefantes había en 2.013?

.....

3) ¿Cuántos menos elefantes había en 2.012 que en 2.013?

Calcula:

.....
.....

Vicente Molinero Claramunt